

**1. Выберите один правильный ответ. Ответы в виде цифр запишите в таблицу ниже. Максимум 6 баллов (по 2 балла за каждый правильный ответ).**

1.1. Прочитайте отрывок из документа и укажите его автора.

*«Ведайте, все христоролюбцы и боголюбцы, как все христианские царства пришли к концу и сошлись в едином царстве нашего Государя... два Рима пали, а третий стоит, а четвертому не быти...внемли, благочестивый царь, как православная вера сошлась в твое единственное царство; один ты во всей поднебесной христианский царь, и твое христианское царство иным не станется».*

- 1) Аввакум                      2) Нил Сорский                      3) Филофей                      4) Иосиф Волоцкий

1.2. Прочитайте фрагмент из летописи и укажите век, когда происходило описываемое в отрывке событие.

*«О деньгах. Тоя же зимы князь великий и мати его великая княгиня, видев неправду в людях, денег умножися поддельных и резаных, и восхоте то лукавство из своего государства вывести, и посоветовал о том с боярами, и повелел государь и его мати делати деньги новые...а старые деньги и поддельные и резаные переделывать...»*

- 1) XV в.                      2) XVI в.                      3) XVII в.                      4) XVIII в.


1.3. Прочитайте отрывок из воспоминаний и назовите автора.

*«Чем больше я играл Бориса Годунова, Грозного, Досифея, Варяжского гостя и Голову в "Майской ночи", тем более я убеждался, что артист в опере должен не только петь, но и играть роль, как играют в драме. В опере надо петь, как говорят. Впоследствии я заметил, что артисты, желавшие подражать мне, не понимают меня. Они не пели, как говорят, а говорили, как поют».*

- 1) С.И. Мамонтов                      2) С.В. Рахманинов                      3) С.П. Дягилев                      4) Ф.И. Шаляпин

1.4. Прочитайте слова французского композитора XIX века Берлиоза об архитектурном памятнике Руси. О каком из архитектурных сооружений, представленных ниже на иллюстрациях, идет речь?

*«... Много я видел, многим любовался, многое поражало меня, но время, древнее время в России, которое оставило свой памятник в этом селе, было для меня чудом из чудес. Я видел Страсбургский собор, который строился веками. Я стоял вблизи Миланского собора, но, кроме наклепанных украшений, ничего не нашел. А тут передо мной предстала красота целого. Во мне все дрогнуло. Это была таинственная тишина. Гармония красоты законченных форм. Я видел какой-то новый вид архитектуры. Я видел стремление ввысь и долго стоял ошеломленный».*



Ответ:

1.1.	1.2.	1.3.	1.4.

**2. Установите правильную хронологическую последовательность. Максимум 9 баллов (по 3 балла за каждую правильно установленную последовательность).**

**2.1. События истории Нижегородского края:**

А. Летом в Нижний Новгород по Волге приплыл тверской купец Афанасий Никитин и жил в городе две недели.

Б. Едигей разгромил и пожег Нижний Новгород и Городец. «Жителей Нижнего Новгорода частью умертвили, частью взяли в плен, угнав их перед конниками как псов»

В. В Нижний Новгород въехал Великий князь Московский Василий Дмитриевич, княжество потеряло свою самостоятельность.

Г. На реке Пьяне в сражении ордынский царевич Арапша разгромил русское войско, утонул в Пьяне сын князя Дмитрия – Иван.

Д. Нижний Новгород стал столицей Суздальско-Нижегородского княжества.

**Ответ:**

--	--	--	--	--

**2.2. Мероприятия царского правительства по крестьянскому вопросу в XIX веке:**

А. Издание Положения о крестьянах, вышедших из крепостной зависимости.

Б. Издание указа о вольных хлебопашцах.

В. Учреждение Крестьянского банка.

Г. Реформа государственной деревни.

Д. Отмена крепостного права в Прибалтике.

**Ответ:**

--	--	--	--	--

**2.3. События, связанные с международными отношениями конца XIX - начала XX века:**

А. Боснийский кризис.

Б. Подписание англо-русской конвенции, завершившей складывание Антанты.

В. Подписание Портсмутского мира.

Г. Международная конференция в Гааге.

Д. Заключение российско-китайского оборонительного союза, получение Россией права на строительство КВЖД.

**Ответ:**

--	--	--	--	--



**3. Рассмотрите изображение и выполните задания. Максимум 5 баллов.**

**3.1. Какому событию посвящен выпуск данной марки? (2 балла).**

---

---

**3.2. Используя изображение, приведите одно обоснование Вашего ответа. (3 балла).**

---

---

**4. В представленном ниже списке перечислены народные выступления, происходившие в России по разным причинам в XVI-XX вв. Установите соответствие между народными выступлениями (бунтами) и столетиями, когда они происходили. Ответ запишите в соответствующие ячейки таблицы. Максимум 10 баллов (по 1 баллу за каждое правильно установленное соответствие).**

1) Стрелецкий бунт в Москве.

- 2) Морозовская стачка.
- 3) Московское восстание против правительства Глинских.
- 4) «Обуховская оборона».
- 5) Восстание под предводительством Е.И. Пугачева.
- 6) Беспорядки в Угличе.
- 7) Восстание Соловецкого монастыря.
- 8) Восстание матросов на броненосце «Князь Потемкин-Таврический».
- 9) Чумной бунт в Москве.
- 10) Бунты военных поселян.

**Ответ:**

XVI в.		XVII в.		XVIII в.		XIX в.		XX в.	

**5. Установите соответствие между политическими лидерами XX в. и выдержками из программ организаций, которые они возглавляли. Обратите внимание, что одно положение в правом столбце является «лишним». Ответ в виде цифр запишите в таблицу ниже.**

**Максимум 6 баллов.**

#### ЛИДЕРЫ

- А) В.И. Ленин
- Б) П.Н. Миллюков
- В) В.М. Пуришкевич

#### ВЫДЕРЖКИ ИЗ ПРОГРАММ

- 1) «Пользование землей должно быть уравнильно-трудовым, то есть обеспечивать потребительную норму на основании приложения собственного труда, единоличного или в товариществе».
- 2) «Светлое будущее России не в грязи европейского парламентаризма, а в русском самодержавии, опирающемся на народные массы и совет выборных».
- 3) «Партия ставит своей ближайшей политической задачей низвержение самодержавия и замену его демократической республикой. ... В интересах охраны рабочего класса, а также и в интересах развития его способностей к освободительной борьбе, партия требует: 1. Ограничения рабочего дня восемью часами в сутки для всех рабочих».
- 4) «13. Конституционное устройство Российского государства определяется основным законом. 14. Народные представители избираются всеобщую, равную, прямую и тайную подачей голосов, без различия вероисповедания, национальности и пола».

**Ответ:**

А	Б	В

**6. Используя данные статистической таблицы, сделайте не менее трех выводов. Максимум 6 баллов (по 2 балла за каждый правильный вывод).**

#### ОБЩИЕ ПОКАЗАТЕЛИ ХОЗЯЙСТВЕННОГО РАЗВИТИЯ РОССИИ С КОНЦА XIX ВЕКА

Показатель	1894 г.	1914 г.
Добыча нефти (в млн пудов)	338	560
Добыча каменного угля (в млн пудов)	466	1983
Производство чугуна (в млн пудов)	73	254

**Ответ:**

1-й вывод: \_\_\_\_\_

\_\_\_\_\_

2-й вывод: \_\_\_\_\_

\_\_\_\_\_

3-й вывод: \_\_\_\_\_

\_\_\_\_\_





7. Заполните пропуски в тексте, соблюдая падежные окончания. Ответы запишите в таблицу ниже. Максимум 8 баллов (по 1 баллу за каждый верный ответ).

После разгрома под \_\_\_\_ (1 – город) в \_\_\_\_ (2 – год) году шведский король \_\_\_\_ (3 – имя короля) XII вместе с поддержавшим его гетманом Иваном \_\_\_\_ (4 – фамилия) бежал в Османскую империю. Подстрекаемый шведским королем и другими европейскими державами, уже в следующем году султан объявил России войну. Стремясь перехватить инициативу у противника, Пётр I с 40- тысячной армией двинулся в турецкие владения – к берегам реки \_\_\_\_ (5 – река). Замысел оказался неудачным: силы царя были окружены многократно превосходящими их войсками султана. Ради сохранения армии Пётр был готов на колоссальные уступки, вплоть до возвращения Швеции большинства отвоёванных у неё земель. Но в результате переговоров мир удалось заключить на максимально приемлемых для России условиях: российская сторона обязалась вернуть туркам крепость \_\_\_\_ (6 – название крепости) и разрушить соседнюю крепость Таганрог, уничтожить флот на \_\_\_\_ (7 – название моря) море, а также беспрепятственно пропустить короля в Швецию. Успех в переговорах был достигнут во многом благодаря таланту дипломата Петра Шафирова. Впрочем, предание гласит, что значительную роль тогда сыграла царская невеста Марта \_\_\_\_ (8 – фамилия), сопровождавшая Петра в походе и якобы пожертвовавшая своими драгоценностями ради заключения мира. По возвращении в Россию царь сыграет с ней пышную свадьбу.

Ответ:

1		5	
2		6	
3		7	
4		8	

8. Ниже изображены портреты четырёх видных деятелей русской культуры и список созданных ими произведений. Укажите фамилии данных деятелей. Соотнесите их с произведениями. Обратите внимание, что одно произведение в списке является лишним. Ответы запишите в таблицу. Максимум 8 баллов (по 2 балла за каждый правильный ответ).

1. 	2. 
3. 	4. 

Произведения:

- А) роман «Преступление и наказание»
- Б) балет «Спящая красавица»
- В) пьеса «Доходное место»
- Г) поэма «Русские женщины»
- Д) опера «Хованщина»

Ответ:

	Фамилия деятеля	Произведение
1		
2		
3		
4		